

## Multi Tasking (Non-Technical) Staff Examination 2019

xyzhint.com

Test Venue	iON Digital Zone iDZ Village Adampur Raisen Road
Test Time	4:00 PM - 5:30 PM
Test Date	06/08/2019

Section : General English

Q.1 Select the most appropriate synonym of the given word.

Rectify

- Ans
- 1. Folly
  - 2. Raid
  - 3. Amend
  - 4. Bend

xyzhint.com

Question ID : 239087992  
Status : Answered  
Chosen Option : 4

Q.2 Choose the most appropriate word that can substitute the given group of words.

Killing of pests

- Ans
- 1. Patricide
  - 2. Suicide
  - 3. Herbicide
  - 4. Pesticide

Question ID : 239087998  
Status : Answered  
Chosen Option : 4

Q.3 Select the most appropriate synonym of the given word.

Profuse

- Ans
- 1. Scarce
  - 2. Sparse
  - 3. Thrifty
  - 4. Aplenty

Question ID : 239087991  
Status : Not Answered  
Chosen Option : --

Q.4 Select the most appropriate option to fill in the blank.

Raja \_\_\_\_\_ the house before Hari got there.

- Ans
- 1. will leave
  - 2. leaves
  - 3. had left
  - 4. left

xyzhint.com

Question ID : 239087984

Status : **Answered**  
Chosen Option : **3**

Q.5 Select the most appropriate option to substitute the underlined segment in the given sentence. If there is no need to substitute it, select No Improvement.

Luckily we have got the few minutes to spare.

- Ans  1. a few  
 2. quite few  
 3. No Improvement  
 4. a little

xyzhint.com

Question ID : **239087980**  
Status : **Answered**  
Chosen Option : **1**

Q.6 Select the most appropriate antonym of the given word.

Relaxed

- Ans  1. Calm  
 2. Tense  
 3. Peaceful  
 4. Arrogant

xyzhint.com

Question ID : **239087993**  
Status : **Answered**  
Chosen Option : **4**

Q.7 Select the most appropriate option to substitute the underlined segment in the given sentence. If there is no need to substitute it, select No Improvement.

Friends stand by each other on time of need.

- Ans  1. in times  
 2. for time  
 3. of times  
 4. No Improvement

Question ID : **239087981**  
Status : **Answered**  
Chosen Option : **2**

Q.8 Find the part of the given sentence that has an error in it. If there is no error, choose 'No error'.

He has deposits all his money in banks. /No error

- Ans  1. He has deposits  
 2. money in banks  
 3. No error  
 4. up all his

xyzhint.com

Question ID : **239087978**  
Status : **Answered**  
Chosen Option : **2**

#### Comprehension:

In the following passage some words have been deleted. Fill in the blanks with the help of the alternatives given. Select the most appropriate option for each blank.

The Thane Municipal Transport (TMT) has seen a 6% drop (1)\_\_\_\_ passenger density after the

Brihanmumbai Electric Supply and Transport (BEST) reduced (2)\_\_\_ bus fares recently. The drop, though small is enough to set the (3)\_\_\_ bells ringing. TMT plies nearly 300 buses and is already facing (4)\_\_\_ in managing regular schedules. The ticket cost cut by BEST (5)\_\_\_ TMT routes that overlap that of the BEST.

**SubQuestion No : 9**

**Q.9 Select the most appropriate option for blank No. 1.**

- Ans  1. in  
 2. from  
 3. of  
 4. on

xyzhint.com

Question ID : 239087986  
Status : Answered  
Chosen Option : 4

**Comprehension:**

In the following passage some words have been deleted. Fill in the blanks with the help of the alternatives given. Select the most appropriate option for each blank.

The Thane Municipal Transport (TMT) has seen a 6% drop (1)\_\_\_ passenger density after the Brihanmumbai Electric Supply and Transport (BEST) reduced (2)\_\_\_ bus fares recently. The drop, though small is enough to set the (3)\_\_\_ bells ringing. TMT plies nearly 300 buses and is already facing (4)\_\_\_ in managing regular schedules. The ticket cost cut by BEST (5)\_\_\_ TMT routes that overlap that of the BEST.

**SubQuestion No : 10**

**Q.10 Select the most appropriate option for blank No. 2.**

- Ans  1. his  
 2. it's  
 3. its  
 4. her

Question ID : 239087987  
Status : Answered  
Chosen Option : 2

**Comprehension:**

In the following passage some words have been deleted. Fill in the blanks with the help of the alternatives given. Select the most appropriate option for each blank.

The Thane Municipal Transport (TMT) has seen a 6% drop (1)\_\_\_ passenger density after the Brihanmumbai Electric Supply and Transport (BEST) reduced (2)\_\_\_ bus fares recently. The drop, though small is enough to set the (3)\_\_\_ bells ringing. TMT plies nearly 300 buses and is already facing (4)\_\_\_ in managing regular schedules. The ticket cost cut by BEST (5)\_\_\_ TMT routes that overlap that of the BEST.

**SubQuestion No : 11**

**Q.11 Select the most appropriate option for blank No. 3.**

- Ans  1. alarm  
 2. clock-tower  
 3. church  
 4. temple

xyzhint.com

Question ID : 239087988  
Status : Answered  
Chosen Option : 1

**Comprehension:**

In the following passage some words have been deleted. Fill in the blanks with the help of the alternatives given. Select the most appropriate option for each blank.

The Thane Municipal Transport (TMT) has seen a 6% drop (1)\_\_\_ passenger density after the Brihanmumbai Electric Supply and Transport (BEST) reduced (2)\_\_\_ bus fares recently. The drop, though small is enough to set the (3)\_\_\_ bells ringing. TMT plies nearly 300 buses and

is already facing (4)\_\_\_ in managing regular schedules. The ticket cost cut by BEST (5)\_\_\_ TMT routes that overlap that of the BEST.

**SubQuestion No : 12**

**Q.12 Select the most appropriate option for blank No. 4.**

- Ans
- 1. facilities
  - 2. difficulties
  - 3. differences
  - 4. consequences

Question ID : 239087989  
Status : Answered  
Chosen Option : 2

**Comprehension:**

In the following passage some words have been deleted. Fill in the blanks with the help of the alternatives given. Select the most appropriate option for each blank.

The Thane Municipal Transport (TMT) has seen a 6% drop (1)\_\_\_ passenger density after the Brihanmumbai Electric Supply and Transport (BEST) reduced (2)\_\_\_ bus fares recently. The drop, though small is enough to set the (3)\_\_\_ bells ringing. TMT plies nearly 300 buses and is already facing (4)\_\_\_ in managing regular schedules. The ticket cost cut by BEST (5)\_\_\_ TMT routes that overlap that of the BEST.

**SubQuestion No : 13**

**Q.13 Select the most appropriate option for blank No. 5.**

- Ans
- 1. has impacting
  - 2. has impacted
  - 3. impact
  - 4. impacting

Question ID : 239087990  
Status : Answered  
Chosen Option : 2

**Q.14 Find the part of the given sentence that has an error in it. If there is no error, choose 'No error'.**

**He went up to her and asks her why she had insulted him. /No error**

- Ans
- 1. He went up to her
  - 2. No error
  - 3. and asks her why
  - 4. she had insulted him

Question ID : 239087979  
Status : Answered  
Chosen Option : 4

**Q.15 Select the most appropriate meaning of the given idiom.**

**To pick up the threads**

- Ans
- 1. To restart from the previous closing point
  - 2. At a short distance
  - 3. To examine an issue seriously
  - 4. Being received very warmly

xyzhint.com

Question ID : 239087996  
Status : Answered  
Chosen Option : 2

Q.16 Select the most appropriate option to substitute the underlined segment in the given sentence. If there is no need to substitute it, select No Improvement.

In his coming film the Spider-Man will be seen in European cities.

- Ans  1. No Improvement  
 2. was seen  
 3. had been seen  
 4. has seen

Question ID : 239087982  
Status : Answered  
Chosen Option : 2

Q.17 Choose the correctly spelt word.

- Ans  1. Noticable  
 2. Noteceable  
 3. Nauticable  
 4. Noticeable

Question ID : 239087999  
Status : Answered  
Chosen Option : 2

Q.18 Choose the most appropriate word that can substitute the given group of words.

A group of ships

- Ans  1. Suite  
 2. Fleet  
 3. Army  
 4. Bevy

xyzhint.com

Question ID : 239087997  
Status : Answered  
Chosen Option : 2

Q.19 Find the part of the given sentence that has an error in it. If there is no error, choose 'No error'.

Her relatives were presented at the station to see her off. /No error

- Ans  1. to see her off  
 2. No error  
 3. Her relatives were  
 4. presented at the station

Question ID : 239087977  
Status : Answered  
Chosen Option : 1

Q.20 Select the most appropriate option to fill in the blank.

Your answer book will be \_\_\_\_\_ by a computer.

- Ans  1. replied  
 2. tested  
 3. submitted  
 4. evaluated

Question ID : 2390871002

Status : **Answered**  
Chosen Option : 3

Q.21 Choose the correctly spelt word.

- Ans  1. Passinger  
 2. Passenger  
 3. Passengger  
 4. Pasenger

xyzhint.com

Question ID : 2390871000  
Status : **Answered**  
Chosen Option : 2

Q.22 Select the most appropriate option to fill in the blank.

He is addicted to alcohol and exerts a bad influence \_\_\_\_ his family.

- Ans  1. about  
 2. for  
 3. on  
 4. in

Question ID : 239087983  
Status : **Answered**  
Chosen Option : 2

Q.23 Select the most appropriate meaning of the given idiom.

sail in the same boat

- Ans  1. be in heavy debt  
 2. pay a very low price for something  
 3. go for a boat ride  
 4. be in the same situation as others

Question ID : 239087995  
Status : **Answered**  
Chosen Option : 2

Q.24 Select the most appropriate antonym of the given word.

Steep

- Ans  1. Narrow  
 2. Rough  
 3. Shallow  
 4. Flat

xyzhint.com

Question ID : 239087994  
Status : **Answered**  
Chosen Option : 2

Q.25 Select the most appropriate option to fill in the blank.

The teacher was very \_\_\_\_ in his subject.

- Ans  1. proficient  
 2. top  
 3. master  
 4. best

Question ID : 2390871001

Status : Answered

Chosen Option : 1

Section : General Intelligence & Reasoning

Q.1 पाँच लड़के J, K, L, M तथा T एक पंक्ति में एक के बाद एक खड़े हुए हैं (जरूरी नहीं कि वे इसी क्रम में हों)। K तथा J के मध्य केवल एक लड़का है। K तथा L के मध्य केवल एक लड़का है। J के पीछे चार लड़के हैं। T, L से तीन स्थान आगे है। M के आगे कितने लड़के हैं?

- Ans
- 1. 2
  - 2. 0
  - 3. 1
  - 4. 3

xyzhint.com

Question ID : 239087734

Status : Answered

Chosen Option : 4

Q.2 दिए गए पैटर्न का ध्यानपूर्वक अध्ययन कीजिए और उस आकृति को चुनिए जो प्रश्न आकृति में दिये गए पैटर्न को पूरा करेगी।



- Ans
- 1.
  - 2.
  - 3.
  - 4.

xyzhint.com

Question ID : 239087744

Status : Answered

Chosen Option : 1

Q.3 निम्नलिखित प्रश्न में, दिए गए विकल्पों में से उस संख्या को चुनिए जो प्रश्न चिह्न (?) के स्थान पर आएगी।

5 1 3  
9 9 4  
6 ? 7  
29 22 18

- Ans
- 1. 4
  - 2. 6
  - 3. 3
  - 4. 5

xyzhint.com

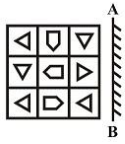
Question ID : 239087740

Status : Not Answered

Chosen Option : --

Q.4

यदि एक दर्पण को AB रेखा पर रखा जाए, तो दी गई उत्तर आकृतियों में से कौन सी आकृति प्रश्न आकृति की सही छवि होगी?



Ans

1.



2.



3.



4.



xyzhint.com

Question ID : 239087746

Status : Answered

Chosen Option : 1

Q.5 एक विशिष्ट कूट भाषा में, 'DRAUGH' को 'LKYEVBH' लिखा जाता है। उसी कूट भाषा में 'MAHTOS' का कोड क्या होगा?

Ans



1. XTYMER



2. WSXLFQ



3. XTYMFR



4. WSXLEQ

Question ID : 239087728

Status : Answered

Chosen Option : 2

Q.6 नीचे दिए गए प्रश्न में, कुछ कथन और उनके बाद उन कथनों पर आधारित कुछ निष्कर्ष दिए गए हैं। दिए गए कथनों को सही मानते हुए, चाहे वे सामान्य रूप से ज्ञात तथ्यों से भिन्न प्रतीत होते हों, सभी निष्कर्षों को पढ़िए और फिर निर्धारित कीजिए कि दिए गए कौन से/सा निष्कर्ष, कथनों का तार्किक रूप से अनुसरण करता/करते हैं।

कथन:

- I. कोई T, L नहीं है।
- II. सभी L, K हैं।

निष्कर्ष:

- I. कुछ K, L हैं।
- II. कुछ K, T हैं।
- III. कोई K, L नहीं हैं।

Ans



1. कोई भी निष्कर्ष अनुसरण नहीं करता है।



2. केवल निष्कर्ष II अनुसरण करता है।



3. दोनों निष्कर्ष II तथा III अनुसरण करते हैं।



✓ 4. केवल निष्कर्ष | अनुसरण करता है।

Question ID : 239087736

Status : Answered

Chosen Option : 4

Q.7 उस विकल्प का चयन करें जो तीसरे शब्द से उसी तरह से संबंधित है जैसे दूसरा शब्द पहले शब्द से संबंधित है।

पकड़ना : चिमटा :: खोदना : ?

- Ans
- ✗ 1. कलम
  - ✓ 2. कुदाल
  - ✗ 3. गटर
  - ✗ 4. चम्मच

xyzhint.com

Question ID : 239087725

Status : Answered

Chosen Option : 2

Q.8 किन दो चिह्नों को परस्पर बदलने पर समीकरण सही हो जाएगा?

$$6 + 9 \times 2 - 3 \div 4 = 8$$

- Ans
- ✓ 1. - तथा ÷
  - ✗ 2. - तथा +
  - ✗ 3. + तथा ÷
  - ✗ 4. ÷ तथा ×

Question ID : 239087742

Status : Answered

Chosen Option : 1

Q.9 उस विकल्प का चयन करें जो तीसरे शब्द से उसी तरह से संबंधित है जैसे दूसरा शब्द पहले शब्द से संबंधित है।

इन्द्रधनुष : आकाश :: सुनामी : ?

- Ans
- ✗ 1. वातावरण
  - ✓ 2. समुद्र
  - ✗ 3. तालाब
  - ✗ 4. भूमि

Question ID : 239087726

Status : Answered

Chosen Option : 2

Q.10 नीचे दिए गए प्रश्न में, कुछ कथन और उनके बाद उन कथनों पर आधारित कुछ निष्कर्ष दिए गए हैं। दिए गए कथनों को सही मानते हुए, चाहे वे सामान्य रूप से ज्ञात तथ्यों से भिन्न प्रतीत होते हों, सभी निष्कर्षों को पढ़िए और फिर निर्धारित कीजिए कि दिए गए कौन से/सा निष्कर्ष, कथनों का तार्किक रूप से अनुसरण करता/करते हैं।

कथन:

- I. कुछ संख्याएँ अक्षर हैं।
- II. कोई अक्षर जल नहीं है।

निष्कर्ष:

- I. कुछ जल संख्याएँ हैं।
- II. कुछ अक्षर संख्याएँ हैं।
- III. सभी अक्षर जल हैं।

- Ans
- ✗ 1. दोनों निष्कर्ष I तथा III अनुसरण करते हैं।
  - ✓ 2. केवल निष्कर्ष II अनुसरण करता है।
  - ✗ 3. कोई भी निष्कर्ष अनुसरण नहीं करता है।
  - ✗ 4. केवल निष्कर्ष I अनुसरण करता है।

xyzhint.com

Question ID : 239087735  
Status : Answered  
Chosen Option : 2

Q.11 किन दो संख्याओं को परस्पर बदलने पर, दिये गए समीकरण को हल करने के पश्चात प्राप्त किया गया मान '13' होगा?

$$7 + 8 \div 4 \times 3$$

- Ans
- 1. 3 तथा 4
  - 2. 8 तथा 3
  - 3. 7 तथा 3
  - 4. 8 तथा 4

Question ID : 239087741  
Status : Answered  
Chosen Option : 3

Q.12 निम्नलिखित प्रश्न में, दिए गए विकल्पों में से संबंधित अक्षर समूह को चुनिए।

JRM : DLG :: TNL : ?

- Ans
- 1. MHF
  - 2. MHE
  - 3. NHE
  - 4. NHF

xyzhint.com

Question ID : 239087727  
Status : Answered  
Chosen Option : 1

Q.13 एक विशिष्ट कूट भाषा में, 'MOTHER' को 'TOMREH' लिखा जाता है। उसी कूट भाषा में 'STORME' का कोड क्या होगा?

- Ans
- 1. OTSEMR
  - 2. EMROTS
  - 3. MROTES
  - 4. OUSEMR

Question ID : 239087729  
Status : Answered  
Chosen Option : 1

Q.14 छः कैमरे G, H, P, S, K तथा I एक पंक्ति में उत्तर की ओर मुख करके रखे गये हैं (जरूरी नहीं कि वे इसी क्रम में हों)। S, I के बायीं ओर दूसरे स्थान पर रखा गया है। H, G के दायीं ओर दूसरे स्थान पर रखा गया है। K, G के बायीं ओर तीसरे स्थान पर रखा गया है। कैमरा I के संदर्भ में निम्नलिखित में से कौन-सा कथन सही है ?

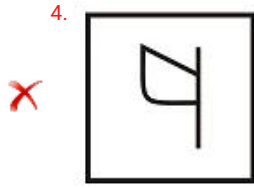
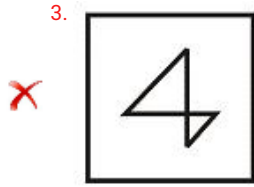
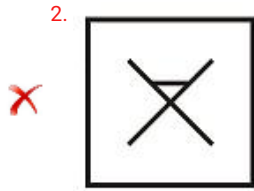
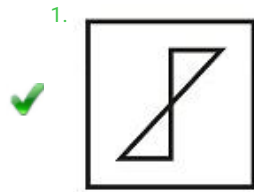
- Ans
- 1. I, G तथा S के मध्य में है।
  - 2. I, H का निकटतम पड़ोसी नहीं है।
  - 3. P, I के बायीं ओर तीसरा है।
  - 4. I, G के तुरंत बायीं ओर है।

Question ID : 239087732  
Status : Not Answered  
Chosen Option : --

Q.15 दी गई उत्तर आकृतियों में से, उस उत्तर आकृति को चुनिए जिसमें नीचे दी गई प्रश्न आकृति समाहित/अन्तर्निहित है।  
(आकृति को घुमाने की अनुमति नहीं है)



Ans



xyzhint.com

Question ID : 239087745  
Status : Answered  
Chosen Option : 1

Q.16 एक विशिष्ट कूट भाषा में, 'ROCKS' को '82649' लिखा जाता है, 'MENTR' को '01578' लिखा जाता है। उसी कूट भाषा में 'TROMN' का कोड क्या होगा?

- Ans  1. 76205  
 2. 70581  
 3. 78205  
 4. 78203

Question ID : 239087731  
Status : Answered  
Chosen Option : 3

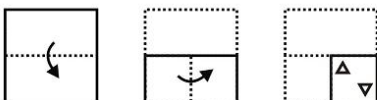
Q.17 नीचे दिए विकल्पों में से उस संख्या को चुनिए जो निम्नलिखित श्रृंखला में प्रश्न चिह्न (?) के स्थान पर आएगी।

12, 12, 24, 72, 288, ?

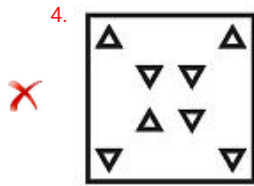
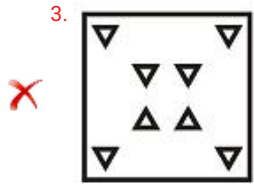
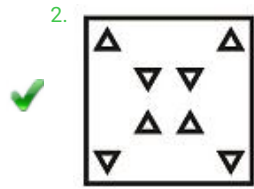
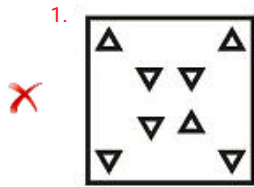
- Ans  1. 1440  
 2. 1228  
 3. 1448  
 4. 1680

Question ID : 239087738  
Status : Answered  
Chosen Option : 1

Q.18 नीचे दी गयी प्रश्न आकृतियों में दिखाए अनुसार कागज के एक टुकड़े को मोड़ा जाता है और छेद किया जाता है। जब इसको खोला जाएगा तो वह दी गयी उत्तर आकृतियों में से किसके जैसा दिखाई देगा?



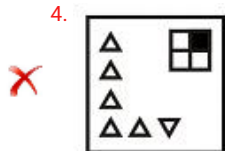
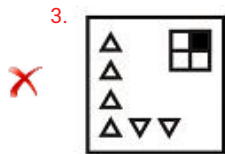
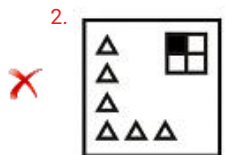
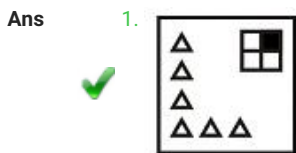
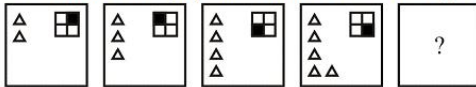
Ans



xyzhint.com

Question ID : 239087747  
Status : Answered  
Chosen Option : 2

Q.19 निम्नलिखित प्रश्न में, दिए गए विकल्पों में से प्रश्न चिह्न (?) के स्थान पर आने वाली आकृति को चुनिए।



Question ID : 239087743  
Status : Answered  
Chosen Option : 1

Q.20 नीचे दिए विकल्पों में से उस संख्या को चुनिए जो निम्नलिखित श्रृंखला में प्रश्न चिह्न (?) के स्थान पर आएगी।

16, 49, 149, 450, 1354, ?

Ans 1. 4062

- 2. 4068
- 3. 4067
- 4. 4066

Question ID : 239087737  
Status : Answered  
Chosen Option : 3

Q.21 उस विकल्प का चयन करें जो तीसरी संख्या से उसी तरह से संबंधित है जैसे दूसरी संख्या पहली संख्या से संबंधित है।

16 : 9 :: 36 : ?

- Ans
- 1. 11
  - 2. 19
  - 3. 17
  - 4. 23

Question ID : 239087739  
Status : Answered  
Chosen Option : 4

Q.22 नीचे एक श्रृंखला दी गयी है, जिसमें एक अक्षर समूह नहीं दिया गया है। दिए गए विकल्पों में से वह सही विकल्प चुनिए, जो श्रृंखला को पूरा करेगा।

LP, MR, ?, OV, PX

- Ans
- 1. MU
  - 2. NU
  - 3. NT
  - 4. MT

xyzhint.com

Question ID : 239087724  
Status : Answered  
Chosen Option : 3



Q.23 छः खिलाड़ी C, E, G, I, K तथा M एक पंक्ति में उत्तर की ओर मुख करके खड़े हुए हैं (जरूरी नहीं कि वे इसी क्रम में हों)। C तथा M के मध्य दो खिलाड़ी खड़े हुए हैं। I, C के तुरंत बायीं ओर खड़ा हुआ है। E, G के बायीं ओर दूसरे स्थान पर खड़ा हुआ है। K, G के दायीं ओर तीसरा है। I के दायीं ओर दूसरे स्थान पर कौन खड़ा हुआ है?

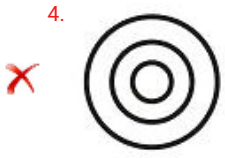

- Ans
- 1. E
  - 2. K
  - 3. C
  - 4. M

Question ID : 239087733  
Status : Not Answered  
Chosen Option : --

Q.24 उस आरेख को चुनिए जो नीचे दिए गए वर्गों के बीच के संबंध को सही प्रकार से दर्शाता है।

पंचभुज, षटभुज, आकृति

- Ans
- 1.  
  - 2.  



Question ID : 239087748

Status : Answered

Chosen Option : 3

Q.25 एक विशिष्ट कूट भाषा में, 'JAN' को '25' लिखा जाता है, 'WED' को '32' लिखा जाता है। उसी कूट भाषा में 'SEP' का कोड क्या होगा?

- Ans  1. 41  
 2. 40  
 3. 38  
 4. 39

Question ID : 239087730

Status : Answered

Chosen Option : 3

Section : Numerical Aptitude

Q.1 किसी कार की गति 36 km/h है। कार की 1/5 वीं गति से चल रही किसी बस को 900 m की दूरी तय करने में कितना समय (मिनट में) लगेगा?

- Ans  1.  $8\frac{1}{2}$   
 2.  $10\frac{1}{2}$   
 3.  $5\frac{1}{2}$   
 4.  $7\frac{1}{2}$

xyzhint.com

Question ID : 239087866

Status : Answered

Chosen Option : 1

Q.2 किसी समचतुर्भुज का क्षेत्रफल  $300\text{ cm}^2$  है, यदि समचतुर्भुज के एक विकर्ण की लंबाई 30 cm है, तो समचतुर्भुज के दूसरे विकर्ण की लंबाई (cm में) कितनी है?

- Ans  1. 20  
 2. 30  
 3. 25  
 4. 10

Question ID : 239087870

Status : Answered

Chosen Option : 1

Q.3 यदि किसी वस्तु का विक्रय मूल्य उसके लागत मूल्य का 25% है, तो हानि प्रतिशत कितना होगा?

- Ans  1. 60%

✓ 2. 75%

✗ 3. 25%

✗ 4. 50%

Question ID : 239087857

Status : Answered

Chosen Option : 2

Q.4 P ने कोई वस्तु Q को 20% के लाभ पर बेची। Q ने उसी वस्तु को 25% की हानि पर R को बेच दी। R ने उस वस्तु को 50% के लाभ पर T को बेच दिया। यदि P ने वस्तु ₹100 में खरीदी थी, तो T ने वह वस्तु किस मूल्य पर खरीदी?

Ans ✓ 1. ₹135

✗ 2. ₹115

✗ 3. ₹145

✗ 4. ₹125

xyzhint.com

Question ID : 239087858

Status : Answered

Chosen Option : 1

Q.5 किसी संख्या को पहले 40% बढ़ाया जाता है और फिर 30% बढ़ाया जाता है। शुद्ध प्रतिशत वृद्धि कितनी है?

Ans ✓ 1. 82%

✗ 2. 70%

✗ 3. 72%

✗ 4. 96%

Question ID : 239087856

Status : Answered

Chosen Option : 1

Q.6 50 संख्याओं की औसत का परिकलन 20 किया गया, जब तीन संख्याओं 26, 36 तथा 64 को गलती से क्रमशः 31, 46 तथा 59 पढ़ लिया गया। सही औसत कितनी है?

Ans ✗ 1. 20.2

✓ 2. 19.8

✗ 3. 24.4

✗ 4. 26.2

Question ID : 239087852

Status : Answered

Chosen Option : 1

Q.7  $(6 \text{ of } 4 \div 16 \times 48) \div 8 \times 4 + 2 \times 3 \div 6 + 5(6 - 2)$  का मान कितना है?

Ans ✗ 1. 63

✗ 2. 79

✗ 3. 67

✓ 4. 57

Question ID : 239087851

Status : Answered

Chosen Option : 4

Q.8

9 पुरुषों की औसत आयु 45 वर्ष है। यदि एक महिला की आयु शामिल कर दी जाती है तो औसत आयु 44 वर्ष हो जाती है। महिला की आयु कितनी है?

- Ans
- 1. 30 वर्ष
  - 2. 44 वर्ष
  - 3. 35 वर्ष
  - 4. 40 वर्ष

Question ID : 239087853  
Status : Answered  
Chosen Option : 3

Q.9 यदि  $X : Y = 13 : 12$  तथा  $X - Y = 2$  है, तो  $2X + 3Y$  का मान कितना है?

- Ans
- 1. 124
  - 2. 144
  - 3. 120
  - 4. 136

Question ID : 239087860  
Status : Answered  
Chosen Option : 1

Q.10 700 m लम्बी एक रेलगाड़ी किसी खम्भे को 35 सेकंड में पार करती है। 740 m लम्बे किसी प्लेटफॉर्म को पार करने में इसे कितना समय लगेगा?

- Ans
- 1. 1 मिनट 20 सेकंड
  - 2. 1 मिनट 12 सेकंड
  - 3. 1 मिनट 24 सेकंड
  - 4. 1 मिनट 30 सेकंड

Question ID : 239087867  
Status : Answered  
Chosen Option : 2

Q.11 ₹2400 की कोई राशि चक्रवृद्धि ब्याज (वार्षिक रूप से संयोजित) की किसी निश्चित दर से 6 वर्षों में ₹3600 हो जाती है। ब्याज की इसी दर से 12 वर्षों में राशि कितनी हो जाएगी?

- Ans
- 1. ₹5400
  - 2. ₹6000
  - 3. ₹4800
  - 4. ₹4500

Question ID : 239087863  
Status : Answered  
Chosen Option : 3

Q.12 A तथा B की मासिक आय क्रमशः ₹12000 तथा ₹15000 है। A का मासिक खर्चा ₹8000 है। यदि A तथा B के मासिक खर्च का अनुपात 2 : 3 है, तो उनकी मासिक बचत का योग कितना है?

- Ans
- 1. ₹8000
  - 2. ₹7000
  - 3. ₹6000
  - 4. ₹5000



Question ID : 239087861  
Status : Answered  
Chosen Option : 2

Q.13 ₹480 को साधारण ब्याज पर निवेश किया गया। 20 माह में वह ₹520 हो जाता है। प्रति वर्ष ब्याज दर कितनी है?

- Ans
- 1. 4%
  - 2. 8%
  - 3. 5%
  - 4. 6%

Question ID : 239087862  
Status : Answered  
Chosen Option : 3

Q.14 दो व्यक्तियों की आयु का अनुपात 3 : 4 है। यदि उनमें से एक की आयु, दूसरे से 8 वर्ष अधिक है, तो उनकी आयु का योग कितना है?

- Ans
- 1. 58 वर्ष
  - 2. 54 वर्ष
  - 3. 56 वर्ष
  - 4. 60 वर्ष

Question ID : 239087859  
Status : Answered  
Chosen Option : 3

Q.15 मोहित, रोहित से पांच गुना अधिक कुशल है। यदि मोहित किसी कार्य को रोहित से 28 दिन कम में पूरा कर सकता है, तो रोहित अकेला उस कार्य को कितने दिन में पूरा कर सकता है?

- Ans
- 1. 32 दिन
  - 2. 35 दिन
  - 3. 40 दिन
  - 4. 45 दिन

xyzhint.com

Question ID : 239087864  
Status : Answered  
Chosen Option : 2

Q.16 किसी लम्ब वृत्तीय शंकु तथा लम्ब वृत्तीय बेलन (सिलेंडर) की त्रिज्या 2 : 3 के अनुपात में है। यदि शंकु तथा बेलन की ऊँचाई का अनुपात 3 : 4 है, तो शंकु तथा बेलन के आयतन का अनुपात कितना है?

- Ans
- 1. 1 : 3
  - 2. 1 : 6
  - 3. 2 : 3
  - 4. 1 : 9

Question ID : 239087868  
Status : Answered  
Chosen Option : 4

Q.17

नीचे दिया गया वृत्त आरेख किसी पार्किंग क्षेत्र में पार्क की गई कुल मोटर साइकिलों में से विभिन्न रंगों की मोटर साइकिलों की संख्या के प्रतिशत को दर्शाता है। वृत्त आरेख में प्रदर्शित केन्द्रीय कोण किसी चयनित पैमाने के अनुसार नहीं हैं।



यदि पार्क की गई मोटर साइकिलों की कुल संख्या 2300 है, तो उनमें से लाल रंग की मोटर साइकिलों की संख्या कितनी है?

- Ans
- 1. 284
  - 2. 288
  - 3. 276
  - 4. 280

xyzhint.com

Question ID : 239087871

Status : Answered

Chosen Option : 3

Q.18 नीचे दिया गया वृत्त आरेख किसी पार्किंग क्षेत्र में पार्क की गई कुल मोटर साइकिलों में से विभिन्न रंगों की मोटर साइकिलों की संख्या के प्रतिशत को दर्शाता है। वृत्त आरेख में प्रदर्शित केन्द्रीय कोण किसी चयनित पैमाने के अनुसार नहीं हैं।



काले रंग की मोटर साइकिलों की संख्या का संगत, केन्द्रीय कोण (एक डिग्री के निकटतम) कितना है?

- Ans
- 1. 45
  - 2. 44
  - 3. 47
  - 4. 46

Question ID : 239087873

Status : Not Answered

Chosen Option : --

Q.19 किसी व्यापारी ने अपनी वस्तुओं पर लागत मूल्य से 25% अधिक कीमत अंकित की। यदि वह 10% की एक छूट देता है, तो उसका लाभ प्रतिशत कितना होगा?

- Ans
- 1. 25%
  - 2. 10%
  - 3. 12.5%
  - 4. 37.5%

Question ID : 239087854

Status : Answered

Chosen Option : 3

Q.20 चार अंकों की सबसे छोटी संख्या कौन-सी है जो 2, 4, 6 तथा 8 से पूर्णतः विभाज्य है?

- Ans
- 1. 1096
  - 2. 1016
  - 3. 1024
  - 4. 1008

Question ID : 239087849  
Status : Answered  
Chosen Option : 3

Q.21 किसी समबाहु त्रिभुज की ऊँचाई  $20\sqrt{2}$  cm है, तो इसका क्षेत्रफल ( $\text{cm}^2$  में) कितना है?

- Ans
- 1.  $\frac{1}{3} 400\sqrt{3}$
  - 2.  $\frac{400}{3}$
  - 3.  $\frac{800}{3}$
  - 4.  $\frac{1}{3} 800\sqrt{3}$

xyzhint.com

Question ID : 239087869  
Status : Answered  
Chosen Option : 4

Q.22  $\frac{3}{4} \div \left(\frac{1}{2} + \frac{1}{16}\right) + \frac{2}{3} \text{ of } \frac{4}{9} \div \left(\frac{1}{3} - \frac{11}{81}\right) + \frac{1}{4} \times \frac{2}{3}$  का मान कितना है?

- Ans
- 1. 1
  - 2. 4
  - 3. 3
  - 4. 2

Question ID : 239087850  
Status : Answered  
Chosen Option : 1

Q.23 रविका अकेली किसी कार्य के  $\frac{3}{5}$  वें भाग को 105 दिन में पूरा कर सकती है। मल्लिका एक-तिहाई काम को 50 दिन में पूरा कर सकती है। रविका और मल्लिका एक साथ मिलकर काम करते हुए कार्य के  $\frac{26}{35}$  भाग को कितने दिनों में पूरा कर सकती हैं?

- Ans
- 1. 63 दिन
  - 2. 70 दिन
  - 3. 60 दिन
  - 4. 80 दिन

xyzhint.com

Question ID : 239087865  
Status : Answered  
Chosen Option : 1

Q.24

नीचे दिया गया वृत्त आरेख किसी पार्किंग क्षेत्र में पार्क की गई कुल मोटर साइकिलों में से विभिन्न रंगों की मोटर साइकिलों की संख्या के प्रतिशत को दर्शाता है। वृत्त आरेख में प्रदर्शित केन्द्रीय कोण किसी चयनित पैमाने के अनुसार नहीं हैं।



यदि पार्क की गई मोटर साइकिलों की कुल संख्या 2300 है तो सफेद रंग की मोटर साइकिलों की संख्या नीले रंग की मोटर साइकिलों की संख्या से कितनी कम है?

- Ans
- 1. 69
  - 2. 72
  - 3. 63
  - 4. 66

Question ID : 239087872  
Status : Answered  
Chosen Option : 1

Q.25 निम्नांकित आँकड़े, बल्लेबाजी में विभिन्न बल्लेबाजी औसत वाले बल्लेबाजों की संख्या को दर्शाते हैं।

औसत	बल्लेबाजों की संख्या
40 - 44	12
44 - 48	10
48 - 52	8
52 - 56	6
56 - 60	4

xyzhint.com

प्रति बल्लेबाज, माध्य बल्लेबाजी औसत कितना है?

- Ans
- 1. 46
  - 2. 45
  - 3. 47
  - 4. 48

Question ID : 239087855  
Status : Not Answered  
Chosen Option : --

Section : General awareness

Q.1 चार महान सत्य (The Four Noble truths) की अवधारणा निम्नलिखित धर्मों में से किसकी है?

- Ans
- 1. बौद्ध धर्म
  - 2. जैन धर्म
  - 3. हिंदू धर्म
  - 4. सिख धर्म

Question ID : 239087623  
Status : Not Answered  
Chosen Option : --

Q.2 निम्नलिखित में से कौन-सा राज्य भारत में क्रोमाइट का मुख्य उत्पादक राज्य है?

- Ans
- 1. ओडिशा

- 2. राजस्थान
- 3. हरियाणा
- 4. गोवा

Question ID : 239087619  
Status : Not Answered  
Chosen Option : --

Q.3 निम्नलिखित में से किसे भारोत्तोलन में राजीव गांधी खेल रत्न पुरस्कार 2018 से सम्मानित किया गया है?

- Ans
- 1. संजीता चानू
  - 2. स्वाति सिंह
  - 3. कर्णम मल्लेश्वरी
  - 4. मीराबाई चानू

Question ID : 239087603  
Status : Answered  
Chosen Option : 4

Q.4 निम्नलिखित में से दीपा कर्माकर का संबंध किस खेल से है?

- Ans
- 1. जिम्नास्टिक
  - 2. गोल्फ
  - 3. टेनिस
  - 4. बैडमिंटन

Question ID : 239087602  
Status : Answered  
Chosen Option : 1

Q.5 निम्नलिखित में से कौन-सा एक संक्रामक रोग है?

- Ans
- 1. अस्थमा
  - 2. अल्जाइमर
  - 3. खसरा
  - 4. मधुमेह

Question ID : 239087617  
Status : Answered  
Chosen Option : 3

Q.6 भारत के निम्नलिखित में से किस राज्य में दुनिया का एकमात्र तैरता हुआ पार्क स्थित है?

- Ans
- 1. त्रिपुरा
  - 2. मेघालय
  - 3. असम
  - 4. मणिपुर

Question ID : 239087620  
Status : Answered  
Chosen Option : 3

Q.7 भारतीय संविधान में पहला संशोधन कब किया गया था?

- Ans
- 1. 1953
  - 2. 1951
  - 3. 1954

✗ 4. 1952

Question ID : 239087611  
Status : Answered  
Chosen Option : 2

Q.8 1857 के भारतीय विद्रोह के दौरान मुगल सम्राट कौन था?

- Ans
- ✓ 1. बहादुर शाह द्वितीय
  - ✗ 2. आलमगीर द्वितीय
  - ✗ 3. शाह आलम द्वितीय
  - ✗ 4. अकबर शाह द्वितीय

Question ID : 239087621  
Status : Answered  
Chosen Option : 1

Q.9 जून 2019 तक की स्थिति के अनुसार, सेंट्रल बैंक ऑफ़ इंडिया के सीईओ (CEO) कौन हैं?

- Ans
- ✗ 1. श्याम श्रीनिवासन
  - ✓ 2. पल्लव महापात्र
  - ✗ 3. पी. वी. भारती
  - ✗ 4. टी. एन. मनोहरन

xyzhint.com

Question ID : 239087608  
Status : Answered  
Chosen Option : 2

Q.10 निम्नलिखित में से कौन-सा आयन जल के खारेपन के लिए जिम्मेदार है?

- Ans
- ✗ 1. पोटेशियम और कैल्शियम आयन
  - ✗ 2. सोडियम और कैल्शियम आयन
  - ✓ 3. कैल्शियम और मैग्नीशियम आयन
  - ✗ 4. सोडियम और मैग्नीशियम आयन

Question ID : 239087615  
Status : Answered  
Chosen Option : 4

Q.11 निम्नलिखित में से किस नोट पर 'रानी की वाव' का रूपांकन है?

- Ans
- ✗ 1. 50 रुपए का नोट
  - ✗ 2. 200 रुपए का नोट
  - ✗ 3. 10 रुपए का नोट
  - ✓ 4. 100 रुपए का नोट

Question ID : 239087609  
Status : Answered  
Chosen Option : 4

Q.12 डायनामाइट का आविष्कारक कौन है?

- Ans
- ✗ 1. मैरी क्युरी
  - ✗ 2. ओट्टो हेन
  - ✗ 3. रॉबर्ट ओपेनहाइमर
  - ✓ 4. अल्फ्रेड नोबल

Question ID : 239087613  
Status : Answered

Q.13 जनगणना 2011 के अनुसार, भारत की साक्षरता दर क्या है?

- Ans
- 1. 0.644
  - 2. 0.8402
  - 3. 0.7404
  - 4. 0.9401

Question ID : 239087607

Status : Not Answered

Chosen Option : --

Q.14 निम्नलिखित में से किस जानवर का वैज्ञानिक नाम 'ऐक्वस कैबेलस (Equus Caballus)' है?

- Ans
- 1. जंगली गधा
  - 2. घोड़ा
  - 3. जेबरा
  - 4. चीता

xyzhint.com

Question ID : 239087614

Status : Answered

Chosen Option : 3

Q.15 भारत के किस केंद्रशासित प्रदेश में बास्टील दिवस मनाया जाता है?

- Ans
- 1. दमन और दीव
  - 2. लक्षद्वीप
  - 3. पुदुच्चेरी
  - 4. दादरा और नगर हवेली

Question ID : 239087601

Status : Not Answered

Chosen Option : --

Q.16 निम्नलिखित में से जम्मू और कश्मीर की पारंपरिक नाट्यशाला कौन-सी है?

- Ans
- 1. स्वांग
  - 2. जात्रा
  - 3. माछ
  - 4. भांड पाथेर

Question ID : 239087599

Status : Answered

Chosen Option : 4

Q.17 निम्नलिखित में से किसे अध्यादेश प्रख्यापित करने का अधिकार है?

- Ans
- 1. राष्ट्रपति
  - 2. प्रधान मंत्री
  - 3. उच्चतम न्यायालय का मुख्य न्यायमूर्ति
  - 4. रक्षा मंत्री

Question ID : 239087610

Status : Answered

Chosen Option : 1

Q.18 निम्नलिखित में से कौन-सा विटामिन ऑस्टियोपोरोसिस से संबंधित है?

- Ans
- 1. विटामिन B

- 2. विटामिन D
- 3. विटामिन A
- 4. विटामिन C

xyzhint.com

Question ID : 239087616  
Status : Not Answered  
Chosen Option : --

Q.19 धनश्री' निम्नलिखित में से किस नदी की सहायक नदी है?

- Ans
- 1. गंगा
  - 2. नर्मदा
  - 3. सिंधु
  - 4. ब्रह्मपुत्र

Question ID : 239087618  
Status : Answered  
Chosen Option : 4

Q.20 खेलों में अपने अच्छे बहुमुखी प्रदर्शन के लिए किसी विश्वविद्यालय को निम्नलिखित में से कौन-सा पुरस्कार दिया जाता है?

- Ans
- 1. मौलाना अबुल कलाम आज़ाद ट्रॉफी
  - 2. ध्यानचंद पुरस्कार
  - 3. अर्जुन अवार्ड
  - 4. द्रोणाचार्य पुरस्कार

Question ID : 239087606  
Status : Answered  
Chosen Option : 1

Q.21 निम्नलिखित में से कौन-सा अनुच्छेद भारत के जम्मू और कश्मीर राज्य से संबंधित है?

- Ans
- 1. अनुच्छेद 370
  - 2. अनुच्छेद 374
  - 3. अनुच्छेद 366
  - 4. अनुच्छेद 378

Question ID : 239087612  
Status : Answered  
Chosen Option : 1

Q.22 लोक गीत 'कजरी' निम्नलिखित में से किस राज्य से संबंधित है?

- Ans
- 1. महाराष्ट्र
  - 2. हिमाचल प्रदेश
  - 3. राजस्थान
  - 4. उत्तर प्रदेश

xyzhint.com

Question ID : 239087600  
Status : Answered  
Chosen Option : 1

Q.23 थॉट्स ऑन पाकिस्तान' पुस्तक के लेखक कौन हैं?

- Ans
- 1. मुहम्मद अली जिन्ना
  - 2. राजेंद्र प्रसाद
  - 3. महात्मा गांधी



✓ 4. डॉ. बी.आर. अम्बेडकर

Question ID : 239087605  
Status : Answered  
Chosen Option : 1

Q.24 असहयोग आंदोलन कब समाप्त हुआ था?

- Ans
- ✗ 1. 1920
  - ✗ 2. 1930
  - ✓ 3. 1922
  - ✗ 4. 1925

Question ID : 239087622  
Status : Answered  
Chosen Option : 2

Q.25 जुलाई 2019 में, विश्व बैंक के प्रबंध निदेशक और मुख्य वित्तीय अधिकारी के रूप में किसे नियुक्त किया गया है?

- Ans
- ✗ 1. रवनीत गिल
  - ✓ 2. अन्शुला कान्त
  - ✗ 3. अमिताभ चौधरी
  - ✗ 4. पी.एस.जयकुमार

xyzhint.com

Question ID : 239087604  
Status : Answered  
Chosen Option : 3